

## Hexaeder

(vom griech. *Sechsfächner*)

Er besteht aus 6 Flächen.

Kannst du herausfinden, wie viele

Ecken der Körper hat?

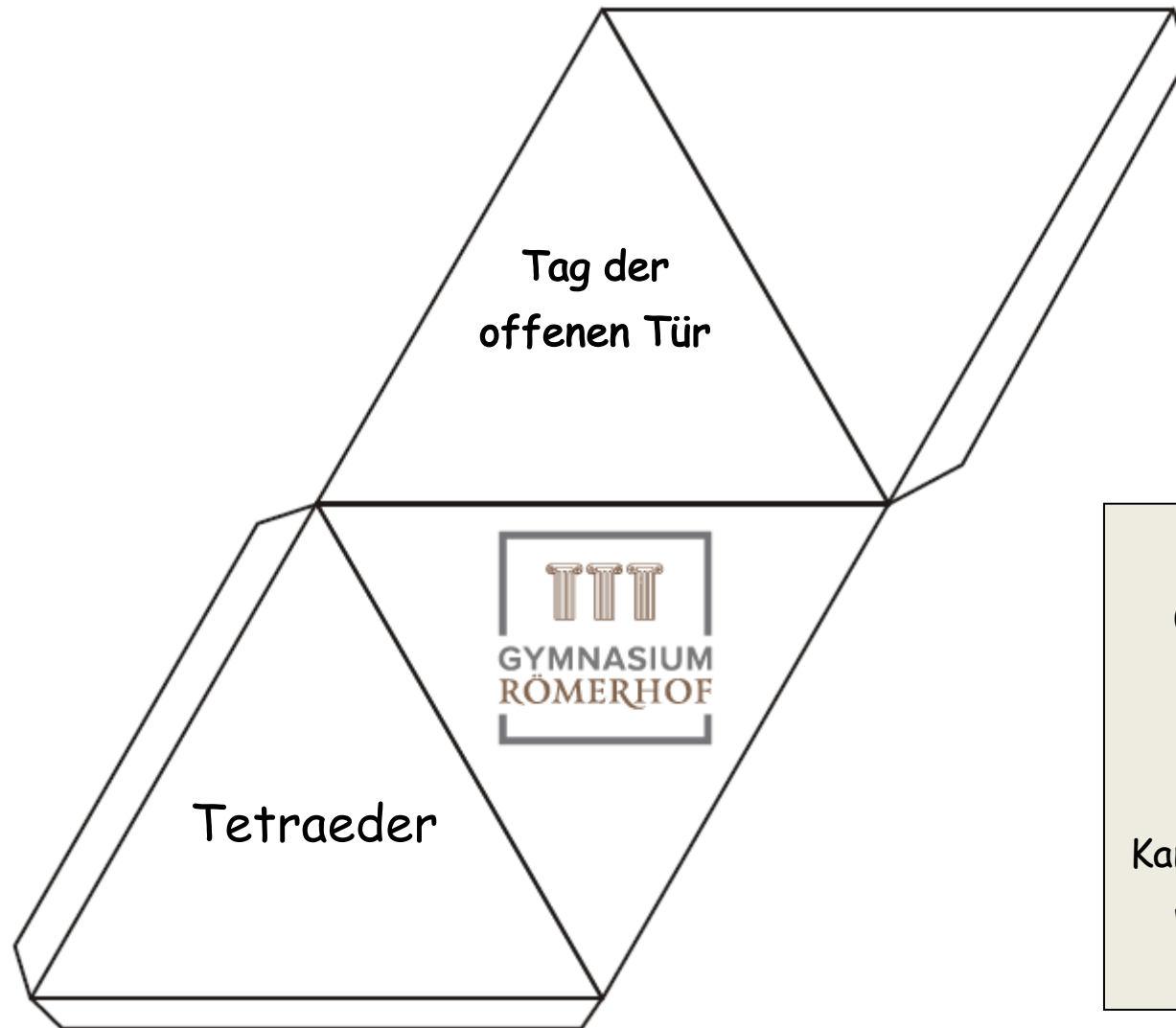
### Anleitung:

Schneide das Körpernetz aus. Achtung:

Schneide die Klebeflächen nicht ab!

Falte jede Kante und klebe den Körper

mithilfe der Klebeflächen zusammen.



**Anleitung:**

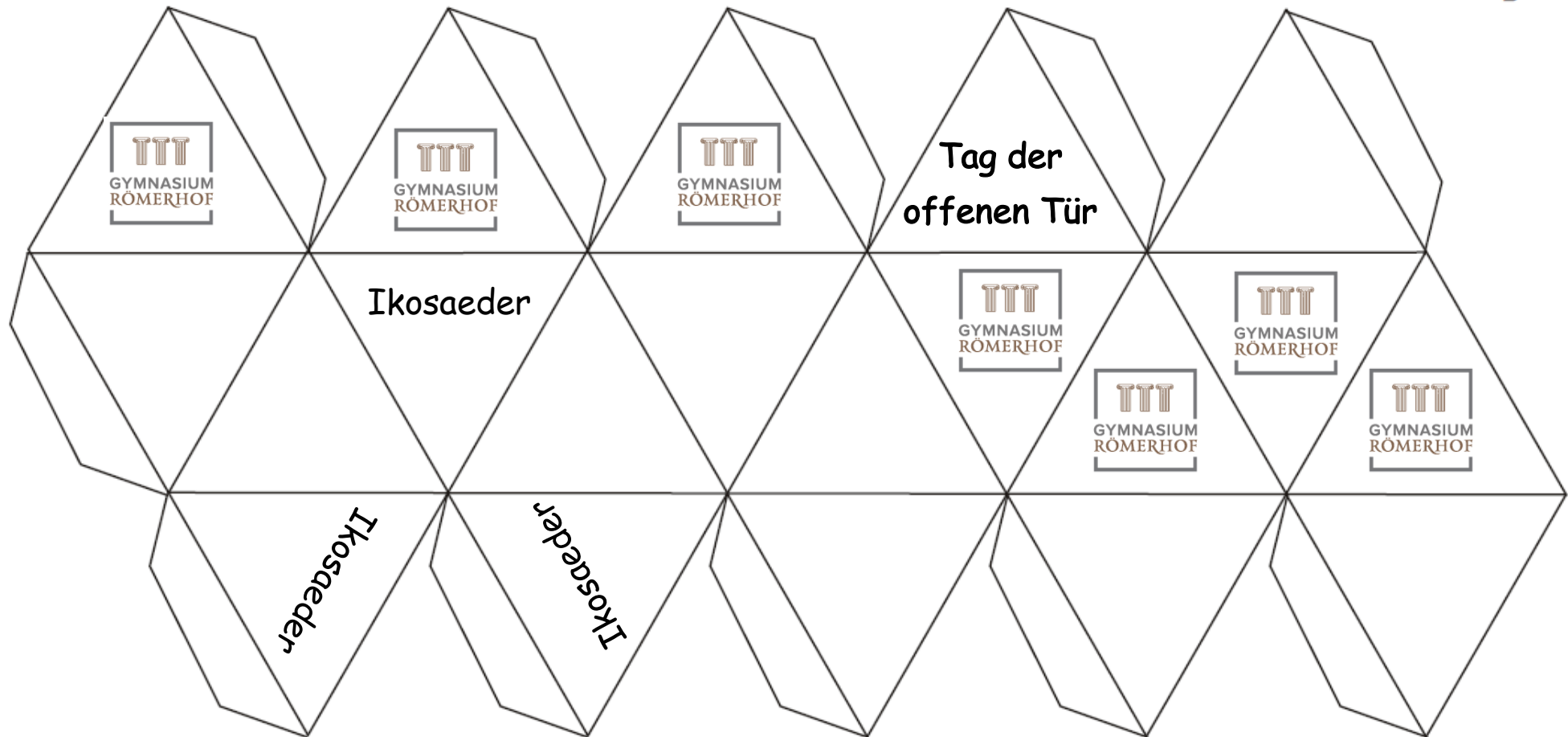
Schneide das Körpernetz aus. Achtung:  
Schneide die Klebeflächen nicht ab!  
Falte jede Kante und klebe den Körper  
mithilfe der Klebeflächen zusammen.

**Tetraeder**

(vom griech. *Vierflächner*)

Er besteht aus 4  
Flächen.

Kannst du herausfinden,  
wie viele Ecken der  
Körper hat?



## Ikosaeder

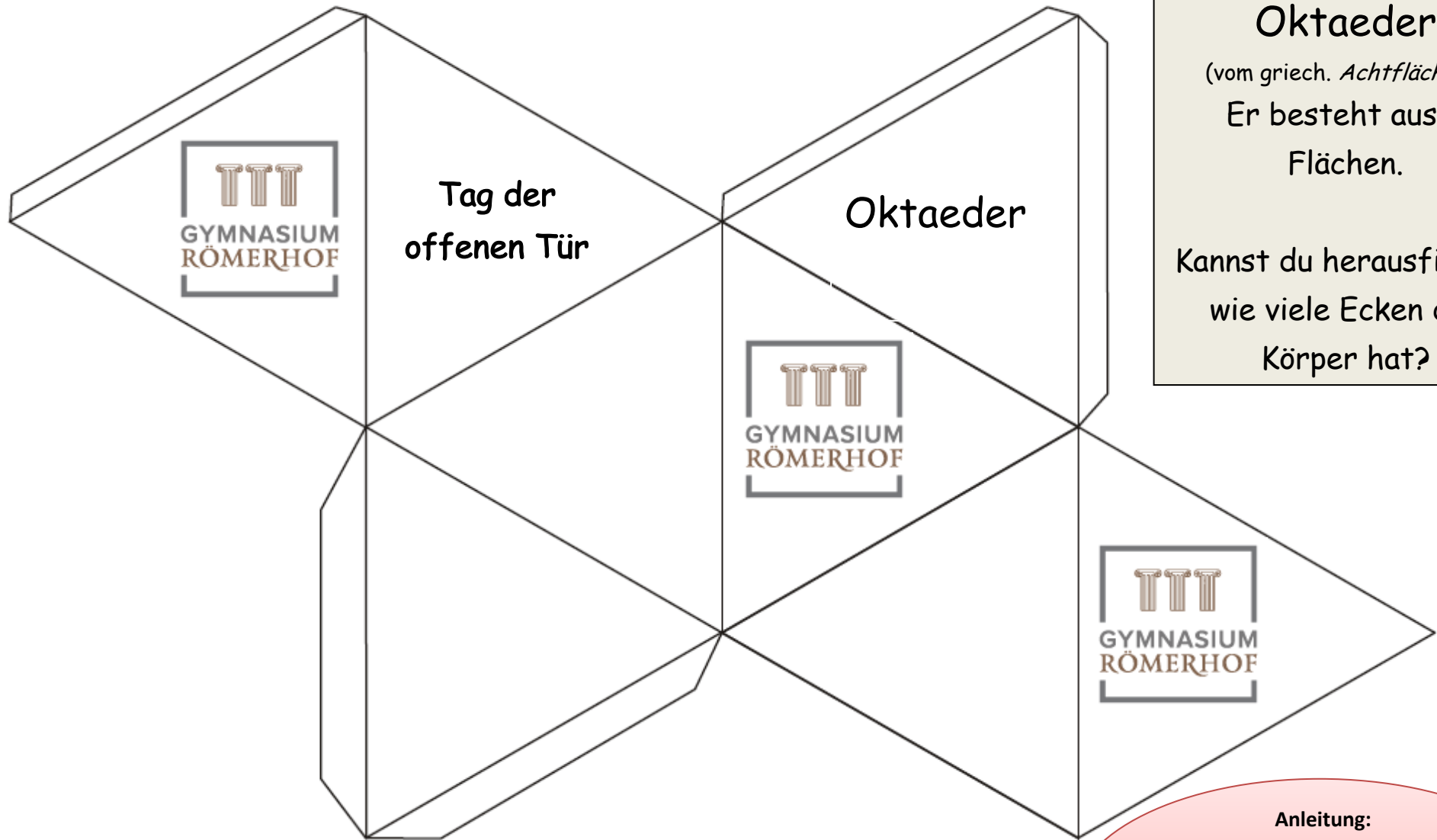
(vom griech. *Zwanzigflächner*)

Er besteht aus 20 Flächen.

Kannst du herausfinden,  
wie viele Ecken der Körper hat?

### Anleitung:

Schneide das Körpernetz aus. Achtung:  
Schneide die Klebeflächen nicht ab!  
Falte jede Kante und klebe den Körper  
mithilfe der Klebeflächen zusammen.



**Oktaeder**  
(vom griech. *Achtflächner*)  
Er besteht aus 8  
Flächen.  
  
Kannst du herausfinden,  
wie viele Ecken der  
Körper hat?

**Anleitung:**  
Schneide das Körpernetz aus. Achtung:  
Schneide die Klebeflächen nicht ab!  
Falte jede Kante und klebe den Körper  
mithilfe der Klebeflächen zusammen.

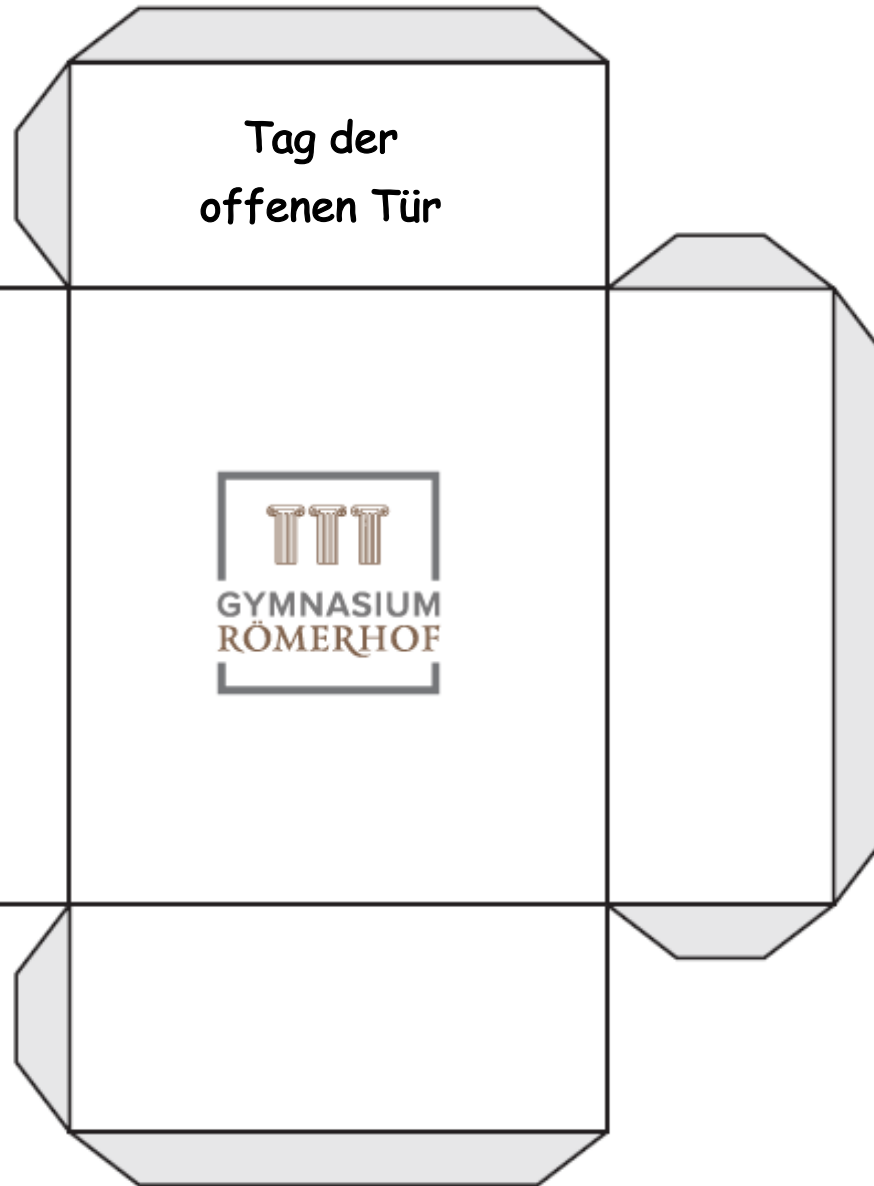
# Hexaeder

(vom griech. *Sechsfächner*)

Er besteht aus 6 Flächen.

Kannst du herausfinden, wie viele Ecken der Körper hat?

© Jasmin Keller, Gymnasium Römerhof, Frankfurt am Main, 2020.



Quader

## Anleitung:

Schneide das Körpernetz aus. Achtung:  
Schneide die Klebeflächen nicht ab!  
Falte jede Kante und klebe den Körper  
mithilfe der Klebeflächen zusammen.

**Anleitung:**

Schneide das Körpernetz aus. Achtung:  
Schneide die Klebeflächen nicht ab!  
Falte jede Kante und klebe den Körper  
mithilfe der Klebeflächen zusammen.

© Jasmin Keller, Gymnasium Römerhof, Frankfurt am Main, 2020.

**Tag der  
offenen Tür**

**Dodekaeder**

**Dodekaeder**

(vom griech. *Zwölf*flächner)

Er besteht aus 12  
Flächen.

Kannst du  
herausfinden, wie  
viele Ecken der  
Körper hat?

